









1) OBSERVE OS DESENHOS E RESOLVA AS ADIÇÕES:

 <input style="width: 40px; height: 20px;" type="text"/>	+	 <input style="width: 40px; height: 20px;" type="text"/>	=	
 <input style="width: 40px; height: 20px;" type="text"/>	+	 <input style="width: 40px; height: 20px;" type="text"/>	=	
 <input style="width: 40px; height: 20px;" type="text"/>	+	 <input style="width: 40px; height: 20px;" type="text"/>	=	
 <input style="width: 40px; height: 20px;" type="text"/>	+	 <input style="width: 40px; height: 20px;" type="text"/>	=	

2) OBSERVE OS ANIMAIS E FAÇA O QUE SE PEDE:



- FAÇA UM X NO ANIMAL QUE TEM A **MAIOR** ORELHA.
- CIRCULE O ANIMAL QUE ESTÁ MAIS **PERTO** DO CACHORRO.
- ESCREVA O NÚMERO DE ANIMAIS DA CENA AO LADO: _____

NOME: _____

DATA: **10/08/2021**

JARDIM II - Prof.ª _____